

Soplado de vidrio

Un libro de lectura de Reading A-Z, Nivel G


Número de palabras: 139



Reading A-Z


Visita www.readinga-z.com

para obtener miles de libros y materiales.



www.readinga-z.com

Soplado de vidrio



Escrito por Mara Rockliff

www.readinga-z.com

Créditos fotográficos:
Todos las fotos: Tim Fuller/© Learning A-Z

Soplado de vidrio
Libro de lectura Nivel G
Glassblowing
Libro original en inglés, Nivel F
© Learning A-Z
Escrito por Mara Rockliff
Traducido por Lorena F. Di Bello


Todos los derechos reservados.
www.readinga-z.com



Soy soplador de vidrio.
Mira cómo hago una hermosa
vasija de vidrio.



El horno que contiene el vidrio
está muy, muy caliente.
El vidrio caliente es líquido
como la miel.



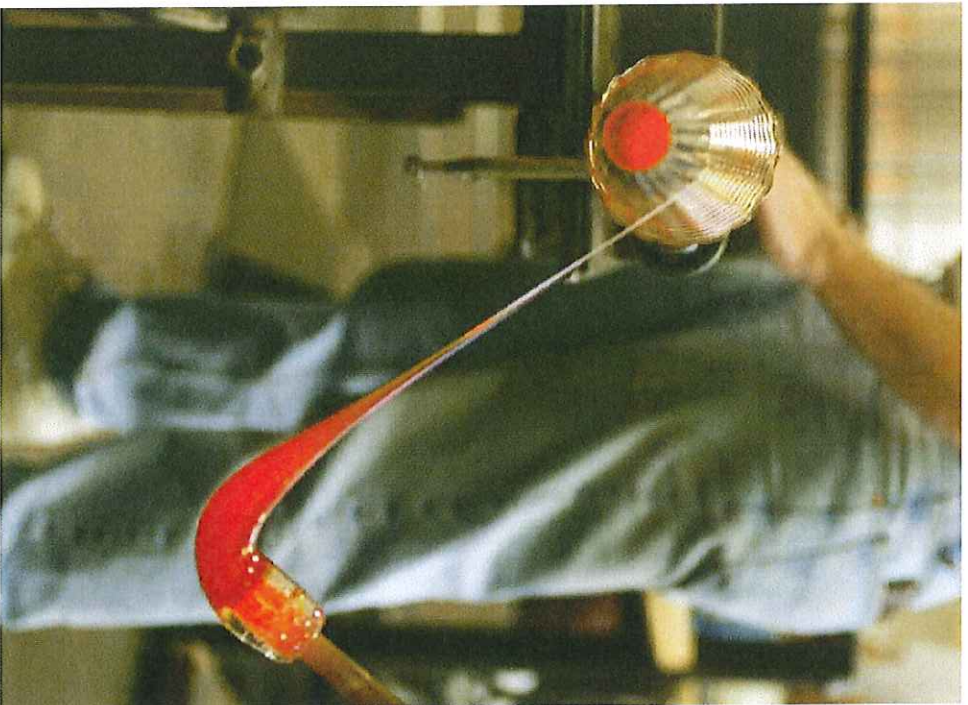
Meto el tubo largo en el vidrio caliente.

Hago rodar el tubo sobre la mesa para emparejar y enfriar el vidrio.



Soplo por el tubo.


Soplo una burbuja dentro del vidrio viscoso.
Trato de no soplar muy fuerte.



Agrego otros colores para que
la vasija quede aún más hermosa.



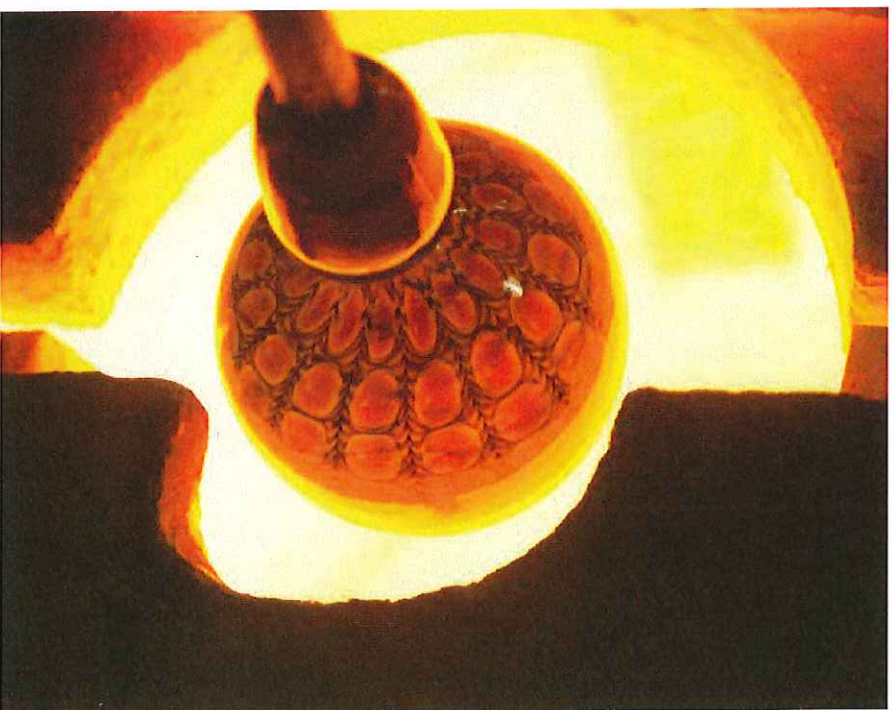
Meto el tubo en el horno
otra vez.
El horno hace que los colores
fluyan.



Mis herramientas me ayudan a dar forma al vidrio.

Soplado de vidrio • Nivel G

9



Hago girar el vidrio lo más rápido que puedo. La vasija se ensancha más y más.

10



Desprendo el tubo.
Vuelvo a calentar el vidrio
para emparejarlo.



El vidrio se enfría lentamente.
Mi hermosa vasija está terminada.



Soplado de vidrio

¿En qué se parecen el vidrio caliente y la miel?
¿En qué se diferencian?

Comparar y contrastar

Reading A-Z



Soplado de vidrio

¿Por qué los sopladores de vidrio necesitan respetar normas de seguridad?

Analizar

Reading A-Z



Soplado de vidrio

¿Qué hace que la vasija se ensanche?

Causa y efecto

Reading A-Z



Soplado de vidrio

¿Qué piensas que le gusta más al soplador de vidrio sobre su trabajo?

Evaluar

Reading A-Z

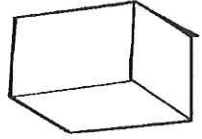
Nombre _____

bl	cl	pl
gl		

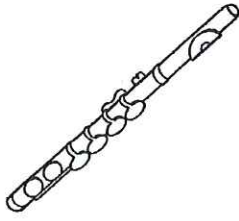



fl







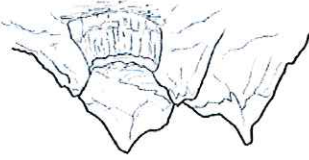












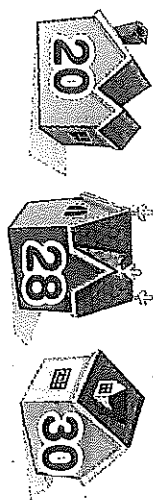
palabra.

Instrucciones: Pida a los estudiantes que escriban la combinación con l que escuchen al comienzo de cada

Problem Solving

Use the number line to solve each problem below.

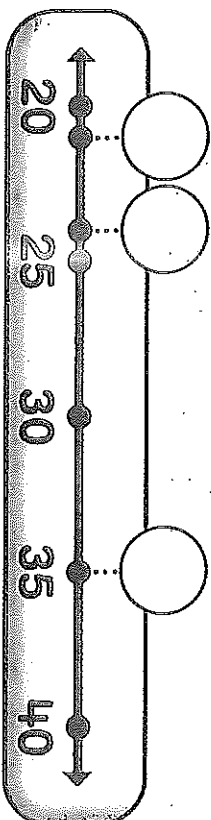
7. Lisa's house number is 20. Paul's house number is 30. Carla's house number is 28. Does Carla live closer to Lisa or to Paul?



Carla lives closer to _____.

8. Some friends play a game. Andy scores 21 points. Matt scores 35 points. Jeremy scores 24 points. Is Jeremy's score closer to Andy's score or Matt's score?

Jeremy's score is closer to _____ score.

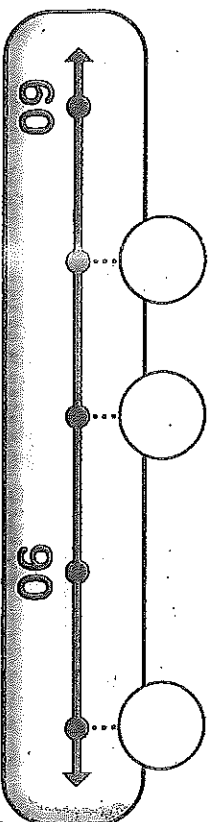


9. Stan's locker number is 105. Jeff's locker number is 110. Marta's locker is closer to Stan's locker.

Which number is Marta's locker?

- 112
- 110
- 108
- 106

10. **Extend Your Thinking** Write the number 80 on the number line. How do you know where to place it? Write the other numbers on the number line.



Name _____



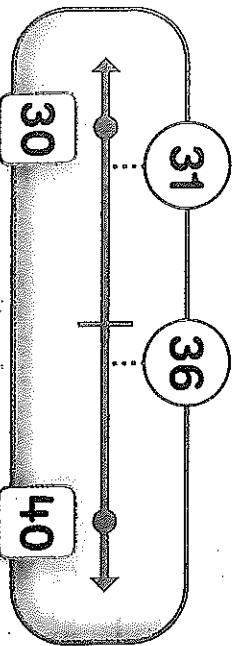
Homework 10-4

Ordering Numbers on the Number Line

Another Look A number line shows the order of numbers.

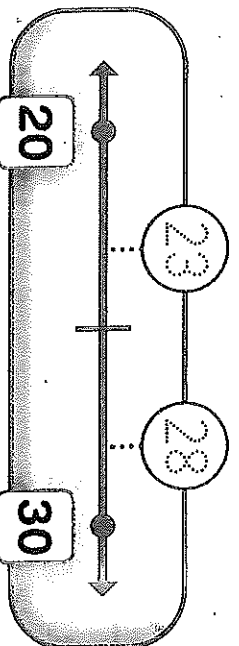
The numbers 31 and 36 are between 30 and 40.

31 is closer to 30.
36 is closer to 40.



The numbers 23 and 28 are between 20 and 30.

23 is closer to 20.
28 is closer to 30.



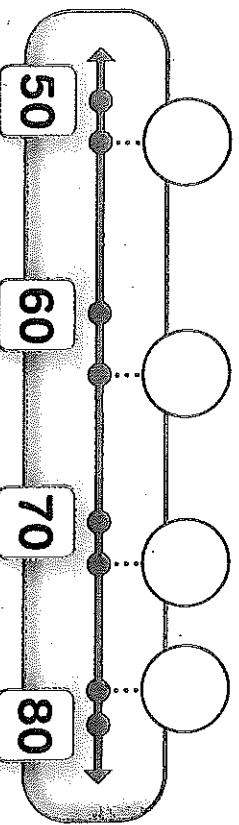
HOME CONNECTION
Your child estimated the positions of numbers on a number line.

HOME ACTIVITY Draw a number line. Write 40 and 80 on the number line. Say a number between 40 and 80. Have your child write the number on the number line. Repeat with additional numbers up to 120.

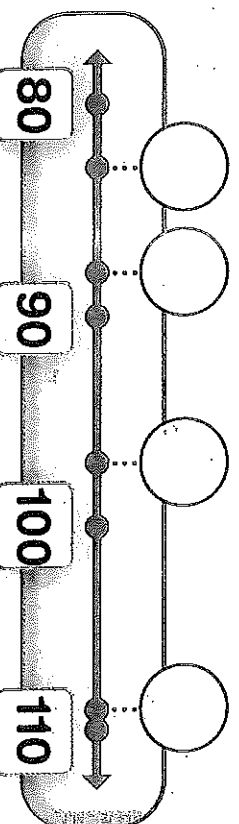


Write the numbers in the correct order on each number line.

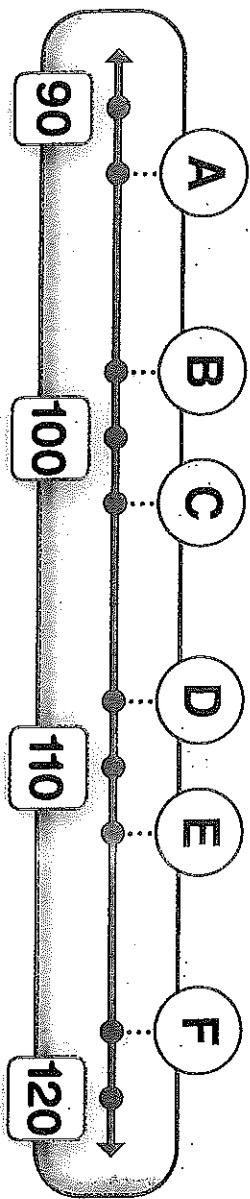
1. 72, 63, 78, 52



2. 88, 83, 97, 109



Use the number line to solve each problem below.



3. Which letter shows where the number 98 should go?

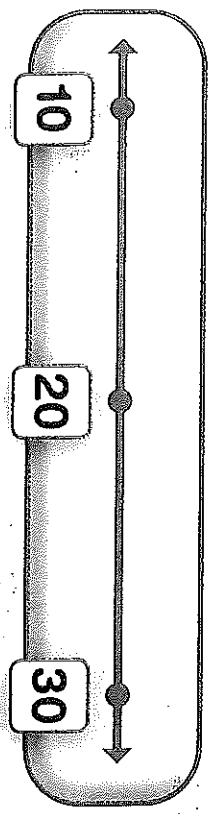
- A B C D

4. Which number should take the place of the letter E?

- 118 115 112 105

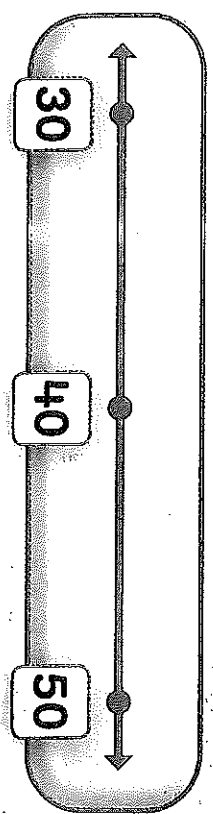
5. Marissa wears the number 26. Grace wears the number 12. Lori wears the number 18.

Write their numbers on the number line.



6. Gary's team scores 37 points. Molly's team scores 43 points. Antonio's team scores 32 points.

Write the numbers on the number line.



7. **Extend Your Thinking**
Choose 5 numbers that belong on the number line. Write the numbers where they belong.

